



CONSTRUCTION MÉCANIQUE

Automatiser les calculs torsoriels



EDC
Sujet / DR

Logiciels



...

Matériel

Dossier technique



Présent
document



Calculs_torseurs.xls

Dossier ressource



Fiche : torseurs

Dossier réponses



Feuille
de copie



présent
document

PRÉSENTATION

Vous êtes membre chargé des affaires dans service qui gère des projets. Chaque membre de ce service qui vous accueille doit de manière quotidienne effectuer des calculs répétitifs qui font perdre en temps précieux, sans parler des erreurs de calculs qui obligent à les recommencer bien souvent une deuxième fois ! Vous maîtrisez l'outil tableur et on vous sollicite donc.

PROBLEMATIQUE - OBJECTIF DE L'ETUDE

Problématique ATI : Créer un outil de calcul simple et ergonomique pour le service de chargé d'affaire dans lequel vous êtes => gagner du temps et limiter les erreurs de calculs.

Objectifs CM : Automatiser le calcul permettant la réduction de torseurs des efforts en différents point à choisir et ce quelque soit la configuration des données (valeurs purement numériques ou inconnues).

TRAVAIL DEMANDE – PARTIE 1

Dans cette activité, on vous propose donc de simplifier la résolution de problème de statique par les torseurs, en réalisant une feuille de calculs (type Excel) qui permet de changer le point de réduction des torseurs.

Une fois chaque consigne réalisée ou franchie, cochez le correspondant afin de visualiser votre état d'avancement.



MODIFICATION DE LA FEUILLE DE CALCULS POUR LES TORSEURS NUMERIQUES

□ Ouvrez le fichier : « **calculs_torseur_eleve.xls** » situé dans l'espace de partage du réseau.

La feuille de calculs ouverte est la suivante (voir figure 1 ci-dessous). Les cases où des valeurs sont déjà inscrites (en **rouge** dans Excel) seront celles complétées par l'utilisateur, les cases « vides » seront remplies automatiquement après « saisie des formules ».

Figure 1 : capture d'écran de la feuille de calculs à compléter

Indiquez le point de départ et ses coordonnées

$$D = \begin{pmatrix} 0 \\ 0 \\ 0 \end{pmatrix}_R$$

Indiquez le point d'arrivée et ses coordonnées

$$B = \begin{pmatrix} 0 \\ 0 \\ 0 \end{pmatrix}_R$$

Indiquez le repère du solide qui agit : **1**

Indiquez le repère du solide isolé : **2**

Indiquez les composantes du torseurs au point de départ

$$\left\{ T_{1/2} \right\}_D = \begin{pmatrix} 200 & 0 \\ 400 & 100 \\ 1100 & 500 \end{pmatrix}_R$$

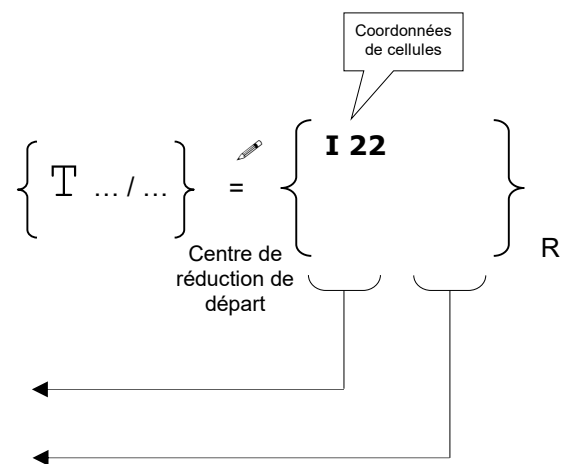
Le produit vectoriel est le suivant

$$M_{B \ 1/2} = M_{D \ 1/2} + B \ D \wedge \ D \ 1/2$$


"Au point d'arrivée", le torseur s'écrit

$$\left\{ T_{1/2} \right\}_B = \begin{pmatrix} \\ \\ \end{pmatrix}_R$$

- Relevez ci-contre les coordonnées de cellules correspondant aux 6 composantes du torseur réduit au centre de réduction de départ.
- Rappelez ci-dessous à quel élément de réduction correspond chaque colonne et précisez lequel reste invariant.










- → Torseur réduit au point d'arrivée : saisissez les coordonnées de la colonne qui reste invariante.
- → Calcul qui détermine le **moment** au point d'arrivée : saisissez les coordonnées de cellules de la résultante.
- → Calcul qui détermine le **moment** au point d'arrivée : saisissez les coordonnées de cellules du moment de départ.





CONSTRUCTION MÉCANIQUE


Automatiser les calculs torsoriels


-  Complétez ci-dessous les repères des cellules des coordonnées du centre de réduction du torseur à l'arrivée. Exprimez avec ces repères, la relation sur chaque axe de R, qui calcule les composantes du vecteur de déplacement de torseur correspondant (⚠ à l'ordre des points).


Centre de réduction du torseur au départ	/ x I 4	Centre de réduction du torseur à l' arrivée	/ x 	⇒ Vecteur $\overrightarrow{\text{arrivée-départ}}$	/ x 
	/ y I 5		/ y 		/ y 
	/ z I 6		/ z 		/ z 

-  → Calcul qui détermine le **moment** au point d'arrivée : saisissez les formules donnant ce vecteur $\overrightarrow{\text{arrivée-départ}}$.
-  Exprimez ci-dessous avec les repères des cellules correspondantes, la relation sur chaque axe de R, qui calcule les composantes du moment au centre de réduction d'arrivée.


Vecteur $\overrightarrow{\text{moment}}$


/ x 

/ y 



/ z 

-  → Calcul qui détermine le **moment** au point d'arrivée : saisissez les formules donnant ce vecteur $\overrightarrow{\text{moment}}$.

-  Indiquez ci-contre les coordonnées de cellules correspondant aux 3 composantes calculées dans le produit vectoriel.

-  → Calcul qui détermine le **moment** au point d'arrivée : saisissez ces coordonnées de cellule.

$$\left\{ \begin{matrix} T \\ \dots / \dots \end{matrix} \right\} = \left\{ \begin{matrix} \mathbf{I 22} \\ \mathbf{I 23} \\ \mathbf{I 24} \end{matrix} \right\} \quad \text{Centre de réduction d'arrivée} \quad \left. \vphantom{\left\{ \begin{matrix} T \\ \dots / \dots \end{matrix} \right\}} \right\} \text{R}$$

-  → Vérifiez votre feuille de calculs. Pour cela :
- Faites un exemple de calculs « à la main » de changement de point de torseur (attention aux erreurs de calculs).
 - Saisissez tous les paramètres correspondant à votre calcul manuel dans votre feuille de calculs.
 - Comparez ; les résultats doivent être identiques.
-  → Enregistrez votre feuille de calculs.



UTILISATION DE LA FEUILLE DE CALCULS

Traitez l'exercice proposé en utilisant votre feuille de calculs pour le changement de point de réduction.

Le support **1** est encastré sur un mur **0** en E. Il assure le maintien des trois câbles dont les tensions sont :

\vec{F}_A [1000 N dans le plan (O,y,z)]

\vec{F}_B [600 N dans le plan (O,x,y)]

\vec{F}_C [700 N dans l'espace]

Isolons le support **1** et effectuons le **B.A.M.E** agissant sur lui :

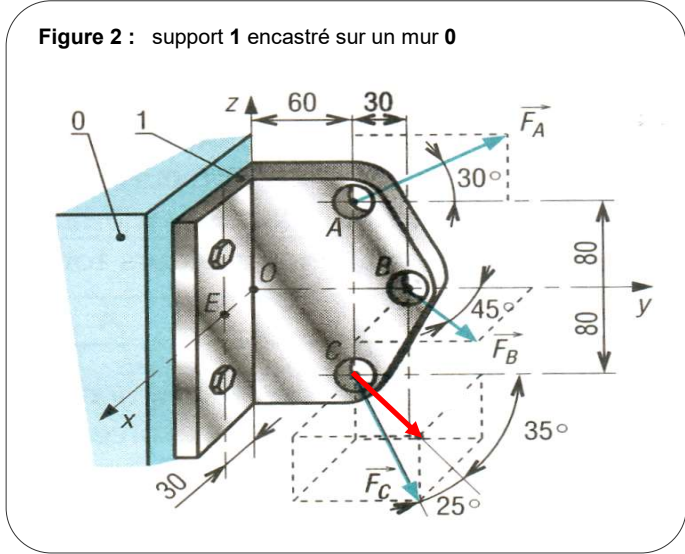


Figure 2 : support 1 encastré sur un mur 0

Valeurs projetées des forces sur x, y et z

$\left\{ \begin{array}{l} T_{\text{câble A / 1}} \end{array} \right\}$	=	$\left\{ \begin{array}{l} A \end{array} \right\}$
$\left\{ \begin{array}{l} T_{\text{câble B / 1}} \end{array} \right\}$	=	$\left\{ \begin{array}{l} B \end{array} \right\}$
$\left\{ \begin{array}{l} T_{\text{câble C / 1}} \end{array} \right\}$	=	$\left\{ \begin{array}{l} C \end{array} \right\}$
$\left\{ \begin{array}{l} T_{0 / 1} \end{array} \right\}$	=	$\left\{ \begin{array}{l} E \end{array} \right\}$

$\left\{ \begin{array}{l} R \\ E \end{array} \right\}$	=	$\left\{ \begin{array}{l} R \\ E \end{array} \right\}$
$\left\{ \begin{array}{l} R \\ E \end{array} \right\}$	=	$\left\{ \begin{array}{l} R \\ E \end{array} \right\}$
$\left\{ \begin{array}{l} R \\ E \end{array} \right\}$	=	$\left\{ \begin{array}{l} R \\ E \end{array} \right\}$
$\left\{ \begin{array}{l} E \end{array} \right\}$	=	$\left\{ \begin{array}{l} R \\ E \end{array} \right\}$

Appliquons le P.F.S. en E au support **1** et pour obtenir 6 équations :

- (1)
- (2)
- (3)
- (4)
- (5)
- (6)

Déterminez les inconnues sur feuille personnelle.



TRAVAIL DEMANDE – PARTIE 2

MODIFICATION DE LA FEUILLE DE CALCULS POUR DES TORSEURS INCONNUS

- Créez en copie, une nouvelle feuille à partir de celle déjà modifiée par vos soins en partie 1.
- Modifiez cette nouvelle feuille afin de constituer un résultat pouvant contenir et afficher des degrés de liaison inconnus afficher. La formule qui permet dans Excel cela est « concatener(...) ».

UTILISATION DE LA FEUILLE DE CALCULS

On vous donne une liaisons linéaire annulaire de centre A et d'axe x entre deux solides **1** et **2**.
On vous donne les coordonnées des points qui feront partie du test : A (0 ; 2 ; 3) et B (2 ; 10 ; 5).

- Déduisez ci-dessous, le torseur de l'action transmissible dans cette liaison en A.

$$\left\{ \begin{array}{c} T \\ 1/2 \end{array} \right\} = \left\{ \begin{array}{c} \\ A \\ R \end{array} \right\}$$

- Effectuez les calculs « à la main » sur un brouillon, qui permettent de réduire le torseur au point B.
Notez le résultat ci-dessus.

$$\left\{ \begin{array}{c} T \\ 1/2 \end{array} \right\} = \left\{ \begin{array}{c} \\ B \\ R \end{array} \right\}$$

- Effectuez la saisie correspondant au test de votre feuille de calculs afin de vérifier son bon fonctionnement.
- Enregistrez votre feuille de calculs.